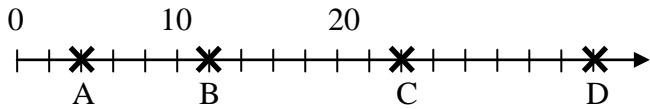
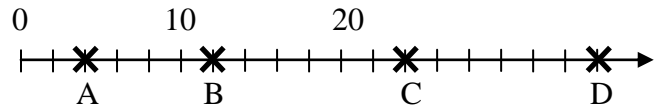


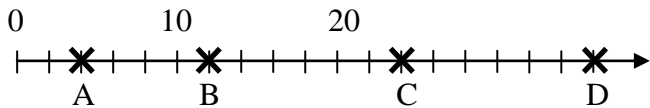
- a) Zeichne einen Zahlenstrahl mit der Einheit 2 cm und darauf die Zahlen 2; 3 und 5 ein.
- b) Welche Zahlen sind auf dem Zahlenstrahl markiert?



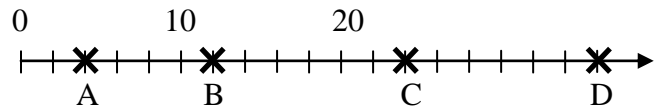
- a) Zeichne einen Zahlenstrahl mit der Einheit 2 cm und darauf die Zahlen 2; 3 und 5 ein.
- b) Welche Zahlen sind auf dem Zahlenstrahl markiert?



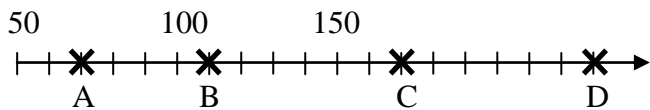
- a) Zeichne einen Zahlenstrahl mit der Einheit 2 cm und darauf die Zahlen 2; 3 und 5 ein.
- b) Welche Zahlen sind auf dem Zahlenstrahl markiert?



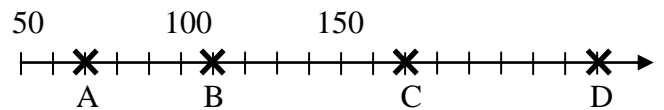
- a) Zeichne einen Zahlenstrahl mit der Einheit 2 cm und darauf die Zahlen 2; 3 und 5 ein.
- b) Welche Zahlen sind auf dem Zahlenstrahl markiert?



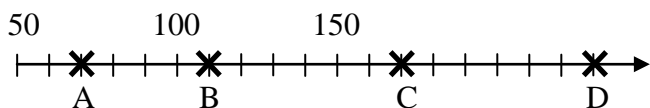
- a) Zeichne einen Zahlenstrahl mit der Einheit 0,5 cm und darauf die Zahlen 4; 8 und 10 ein.
- b) Welche Zahlen sind auf dem Zahlenstrahl markiert?



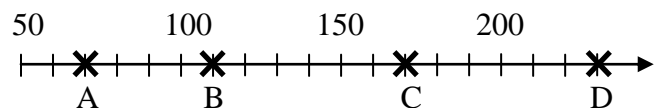
- a) Zeichne einen Zahlenstrahl mit der Einheit 0,5 cm und darauf die Zahlen 4; 8 und 10 ein.
- b) Welche Zahlen sind auf dem Zahlenstrahl markiert?



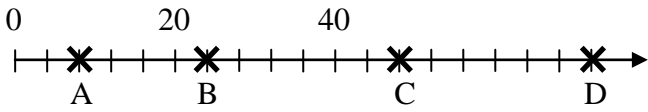
- a) Zeichne einen Zahlenstrahl mit der Einheit 0,5 cm und darauf die Zahlen 4; 8 und 10 ein.
- b) Welche Zahlen sind auf dem Zahlenstrahl markiert?



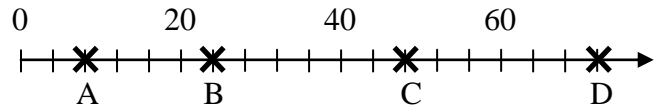
- a) Zeichne einen Zahlenstrahl mit der Einheit 0,5 cm und darauf die Zahlen 4; 8 und 10 ein.
- b) Welche Zahlen sind auf dem Zahlenstrahl markiert?



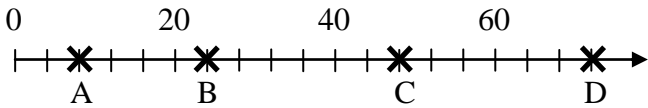
- a) Zeichne einen Zahlenstrahl mit der Einheit 1,5 cm und darauf die Zahlen 3; 4 und 5 ein.
- b) Welche Zahlen sind auf dem Zahlenstrahl markiert?



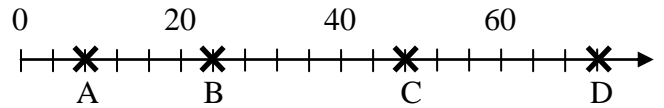
- a) Zeichne einen Zahlenstrahl mit der Einheit 1,5 cm und darauf die Zahlen 3; 4 und 5 ein.
- b) Welche Zahlen sind auf dem Zahlenstrahl markiert?



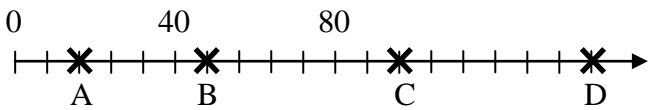
- a) Zeichne einen Zahlenstrahl mit der Einheit 1,5 cm und darauf die Zahlen 3; 4 und 5 ein.
- b) Welche Zahlen sind auf dem Zahlenstrahl markiert?



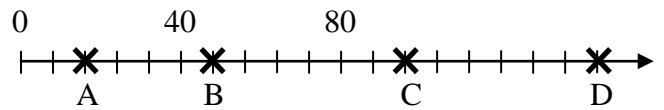
- a) Zeichne einen Zahlenstrahl mit der Einheit 1,5 cm und darauf die Zahlen 3; 4 und 5 ein.
- b) Welche Zahlen sind auf dem Zahlenstrahl markiert?



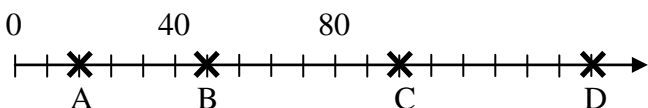
- a) Zeichne einen Zahlenstrahl mit der Einheit 1 cm und darauf die Zahlen 4; 8 und 10 ein.
- b) Welche Zahlen sind auf dem Zahlenstrahl markiert?



- a) Zeichne einen Zahlenstrahl mit der Einheit 1 cm und darauf die Zahlen 4; 8 und 10 ein.
- b) Welche Zahlen sind auf dem Zahlenstrahl markiert?



- a) Zeichne einen Zahlenstrahl mit der Einheit 1 cm und darauf die Zahlen 4; 8 und 10 ein.
- b) Welche Zahlen sind auf dem Zahlenstrahl markiert?



- a) Zeichne einen Zahlenstrahl mit der Einheit 1 cm und darauf die Zahlen 4; 8 und 10 ein.
- b) Welche Zahlen sind auf dem Zahlenstrahl markiert?

