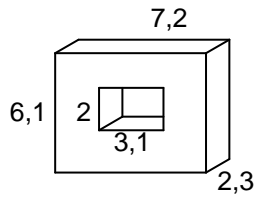
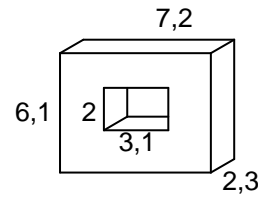


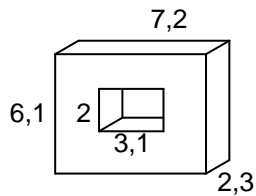
Berechne das Volumen und den Oberflächeninhalt des folgenden Körpers (Angaben in cm):



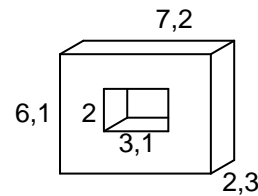
Berechne das Volumen und den Oberflächeninhalt des folgenden Körpers (Angaben in cm):



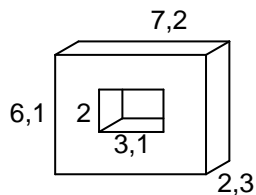
Berechne das Volumen und den Oberflächeninhalt des folgenden Körpers (Angaben in cm):



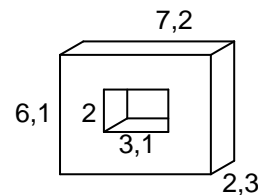
Berechne das Volumen und den Oberflächeninhalt des folgenden Körpers (Angaben in cm):



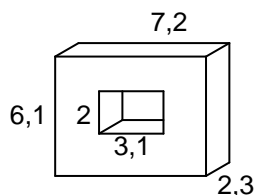
Berechne das Volumen und den Oberflächeninhalt des folgenden Körpers (Angaben in cm):



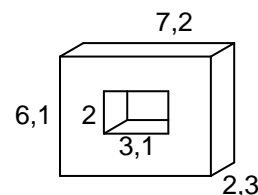
Berechne das Volumen und den Oberflächeninhalt des folgenden Körpers (Angaben in cm):



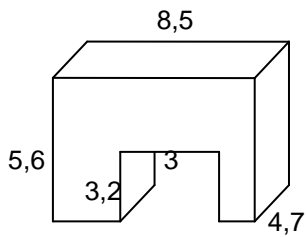
Berechne das Volumen und den Oberflächeninhalt des folgenden Körpers (Angaben in cm):



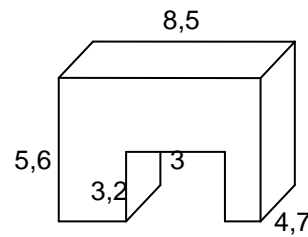
Berechne das Volumen und den Oberflächeninhalt des folgenden Körpers (Angaben in cm):



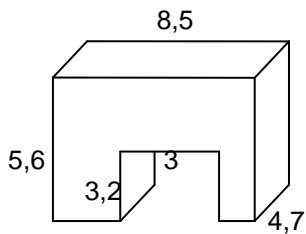
Berechne das Volumen und den Oberflächeninhalt des folgenden Körpers (Angaben in cm):



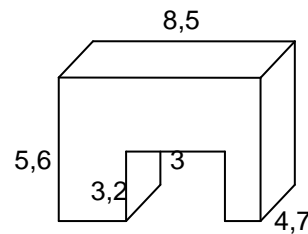
Berechne das Volumen und den Oberflächeninhalt des folgenden Körpers (Angaben in cm):



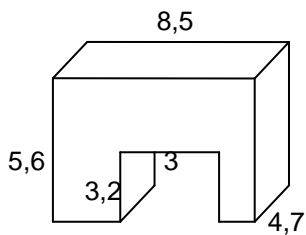
Berechne das Volumen und den Oberflächeninhalt des folgenden Körpers (Angaben in cm):



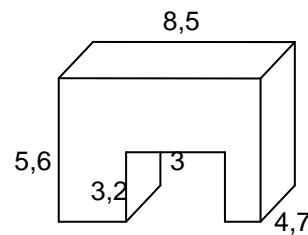
Berechne das Volumen und den Oberflächeninhalt des folgenden Körpers (Angaben in cm):



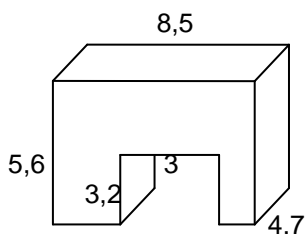
Berechne das Volumen und den Oberflächeninhalt des folgenden Körpers (Angaben in cm):



Berechne das Volumen und den Oberflächeninhalt des folgenden Körpers (Angaben in cm):



Berechne das Volumen und den Oberflächeninhalt des folgenden Körpers (Angaben in cm):



Berechne das Volumen und den Oberflächeninhalt des folgenden Körpers (Angaben in cm):

